

Link do produktu: <https://www.empi2.pl/testy-przygotowujace-do-egzaminu-z-kwalifikacji-au22-obsługa-magazynow-wersja-online-z-rozwiązaniami-dla-nauczyciela-p-2212.html>



Testy przygotowujące do egzaminu z kwalifikacji AU.22. Obsługa magazynów - wersja ONLINE z rozwiązaniami dla nauczyciela

Cena	29,00 zł
Dostępność	wyłącznie dla nauczycieli przedmiotów zawodowych - zalogowanych w sklepie
Numer katalogowy	TOMR-ONLINE-info
Kod CN	4901

Opis książki

Produkt wyłącznie dla nauczycieli przedmiotów zawodowych - zalogowanych w sklepie

zbiór zadań testowych i praktycznych przygotowujących do egzaminu z kwalifikacji AU.22. Obsługa magazynów; typ szkoły: technikum; 240 zadań testowych i 8 zadań praktycznych **w wersji ONLINE z rozwiązaniami.**

Autorka: Dorota Szymczyńska

Zbiór zawiera 8 zestawów zadań testowych, 8 zadań praktycznych przygotowujących do egzaminu potwierdzającego kwalifikację AU.22. Obsługa magazynów. Każdy zestaw zadań testowych zawiera 40 zadań. Testy zostały przygotowane zgodnie z podstawą programową dla zawodu magazynier logistyk i technik logistyk.

Testy w wersji ONLINE są umieszczone na stronie moodle.empi2.pl. Taka wersja testów umożliwia pracę zdalną ucznia z testami, zdalną kontrolę nauczyciela, ocenianie, wysyłanie uwag i in. Zobacz wersję [DEMO](#) testów. Zaloguj się jako użytkownik: demo, hasło: Demo2021*

UWAGA! Prosimy w trakcie zakupu w uwagach do zamówienia wpisać orientacyjną liczbę uczniów (uczestników w kursie).

1. Nauczyciel, który kupi produkt, otrzyma dostęp do testów AU.22 w wersji ONLINE na serwisie moodle.empi2.pl. Utworzymy dla niego konto prowadzącego kurs, umożliwiające przypisanie do niego grupy uczestników - uczniów.
2. Nauczyciel otrzyma od nas link do testów w naszym sklepie, który wyśle swoim uczniom.
3. Uczniowie kupujący w naszym sklepie dostęp do testów AU.22 w wersji ONLINE (w cenie 19,00 zł) otrzymają specjalny kod dostępu.
4. Uczniowie za pomocą otrzymanego kodu będą mogli utworzyć w serwisie moodle.empi2.pl konta przypisane do grupy swojego nauczyciela.

[Zobacz filmik instruktażowy na youtube.com](#)
[Pobierz instrukcję dla nauczyciela \(format pdf\)](#)

Przykładowe strony testów online

Kwalifikacja AU.22. Obsługa magazynów

Kokpit / Kursy / Testy do egzaminów z kwalifikacji dla zawodów / AU.22 / Zestaw I / Zestaw I (1 – 40) / Podgląd

Pytanie 1

Nie udzielono odpowiedzi

Punkty: 1,00

Oflaguj pytanie

Edytuj pytanie

System informatyczny, który pozwala zintegrować wszystkie procesy zachodzące w przedsiębiorstwie na różnych szczeblach, to

- A. ERP.
- B. SCM.
- C. MRP.
- D. DRP.

Następna strona

→ Ogłoszenia

Przejdź do...

Zestaw II (41 – 80) ▶

Nawigacja w teście

1	2	3	4	5	6	7	8	9
10	11	12	13	14	15	16	17	18
19	20	21	22	23	24	25	26	27
28	29	30	31	32	33	34	35	36
37	38	39	40					

Zapisz podejście ...

Rozpocznij nowy podgląd

Pytanie 7

Nie udzielono odpowiedzi


Punkty: 1,00

Oflaguj pytanie


Edytuj pytanie

Który ze znaków **nie będzie** umieszczony na opakowaniu transportowym chłodziarko-zamrażarki?

A.



B.



C.



Nawigacja w teście

1	2	3	4	5	6	7	8	9
10	11	12	13	14	15	16	17	18
19	20	21	22	23	24	25	26	27
28	29	30	31	32	33	34	35	36
37	38	39	40					

Zapisz podejście ...

Rozpocznij nowy podgląd

Pytanie 14

Nie udzielono odpowiedzi

Punkty: 1,00

🚩 Oflaguj pytanie

⚙️ Edytuj pytanie

W przedstawionej kartotece błędnie dokonano zapisu w dniu

KARTOTEKA MAGAZYNOWA						
Hurtownia Zabawek „Jaga” sp. z o.o. ul. Jaskiniowa 34 31-865 Kraków		Nazwa towaru: Wózek dla lalek		Indeks: 6745/34		
				Marża: 20%		
				Metoda liczenia marży: „wstwu”		
Jednostka miary: szt.			Cena zakupu netto: 70,00 zł			
Lp.	Data	Symbol i numer dokumentu	Przeznaczenie	Przychód	Rozchód	Stan
1	12.10.20XY	Pz 72/34	do sprzedaży	100	–	100
2	14.10.20XY	Wz 45/35	sprzedaż	–	60	40
3	16.10.20XY	Pz 73/34	do sprzedaży	120	–	160
4	18.10.20XY	Wz 46/34	sprzedaż	50	–	210

- A. 14.10.20XY.
- B. 12.10.20XY.
- C. 16.10.20XY.
- D. 18.10.20XY.

Nawigacja w treści

1	2	3	4	5	6	7	8	9
10	11	12	13	14	15	16	17	18
19	20	21	22	23	24	25	26	27
28	29	30	31	32	33	34	35	36
37	38	39	40					

Zapisz podejście ...

Rozpocznij nowy podgląd

Pytanie 35

Nie udzielono odpowiedzi

Punkty: 1,00

🚩 Oflaguj pytanie

⚙️ Edytuj pytanie

Rysunek przedstawia regał



- A. przepływowy grawitacyjny.
- B. przejezdny torowy.
- C. specjalizowany okrężny.
- D. wspornikowy przejezdny.

Nawigacja w treści

1	2	3	4	5	6	7	8	9
10	11	12	13	14	15	16	17	18
19	20	21	22	23	24	25	26	27
28	29	30	31	32	33	34	35	36
37	38	39	40					

Zapisz podejście ...

Rozpocznij nowy podgląd

Kwalifikacja AU.22. Obsługa magazynów

Kokpit / Kursy / Testy do egzaminów z kwalifikacji dla zawodów / AU.22 / Zestaw VI / Zestaw VI (201 – 240) / Podgląd

Pytanie 6

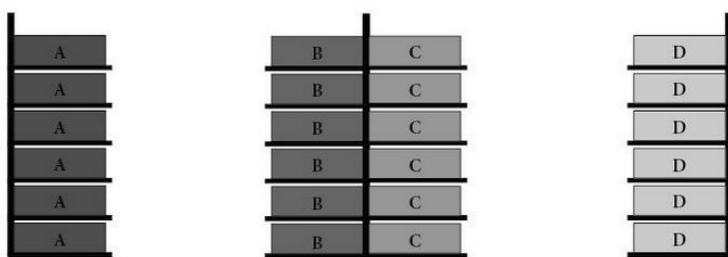
Nie udzielono odpowiedzi

Punkty: 1,00

Oflaguj pytanie

Edytuj pytanie

Rysunek przedstawia rozmieszczenie zapasu za pomocą metody



- A. rotacji.
- B. poziomów składowania.
- C. stałych miejsc składowania.
- D. wolnych miejsc składowania.

Nawigacja w teście

1	2	3	4	5	6	7	8	9
10	11	12	13	14	15	16	17	18
19	20	21	22	23	24	25	26	27
28	29	30	31	32	33	34	35	36
37	38	39	40					

Zapisz podejście ...

Rozpocznij nowy podgląd

Poprzednia strona

Następna strona

O Autorce

Dorota Szymczyńska ? absolwentka Akademii Ekonomicznej w Krakowie (kierunek towaroznawstwo), ukończyła studia podyplomowe w zakresie przedsiębiorczości. Jest nauczycielką dyplomowaną przedmiotów zawodowych w częstochowskim zespole szkół (towaroznawstwo, przedsiębiorczość, gospodarka zapasami i magazynem, laboratorium magazynowe, laboratorium logistyczno-spedycyjne). Jest również egzaminatorką w zawodzie technik logistyki, technik handlowiec, sprzedawca.